

A partir de la situation de Dominique Valentin

Les bidules (niveau GS a)

Pour jouer à 2 au jeu des bidules, il faut :

dans un sac :

- 4 jetons jaunes
- 4 jetons bleus
- 4 jetons verts




dans une barquette

- beaucoup de bidules




Chaque jeton vaut des bidules :



Chacun son tour , on tire , 5 fois, un jeton sans regarder dans le sac et on pose le jeton sur la table.

Celui qui a le plus de bidules a gagné.

Tom et Dorian ont joué et ils ont tiré 5 jetons chacun.



Qui a gagné ?

A partir de la situation de Dominique Valentin

Les bidules (niveau GS b)

Pour jouer à 2 au jeu des bidules, il faut :

dans un sac :

- 4 jetons jaunes
- 4 jetons bleus
- 4 jetons verts






dans une barquette

- beaucoup de bidules




Chaque jeton vaut des bidules :

		
5	2	1

Chacun son tour , on tire , 5 fois, un jeton sans regarder dans le sac et on pose le jeton sur la table.

Celui qui a le plus de bidules a gagné.

Tom et Dorian ont joué et ils ont tiré 5 jetons chacun.



Qui a gagné ?

A partir de la situation de Dominique Valentin

Les bidules (niveau CP a)

Pour jouer à 2 au jeu des bidules, il faut :

dans un sac :

- 4 jetons jaunes
- 4 jetons bleus
- 4 jetons verts






dans une barquette

- beaucoup de bidules




Chaque jeton vaut des bidules :

		
10	5	1

Chacun son tour , on tire , 5 fois, un jeton sans regarder dans le sac et on pose le jeton sur la table.

Celui qui a le plus de bidules a gagné.

Tom et Dorian ont joué et ils ont tiré 5 jetons chacun.



Qui a gagné ?

Les bidules (niveau CP b)

Pour jouer à 2 au jeu des bidules, il faut :

dans un sac :

- 4 jetons jaunes
- 4 jetons bleus
- 4 jetons verts






dans une barquette

- beaucoup de bidules




Chaque jeton vaut des bidules :

		
20	10	5

Chacun son tour , on tire , 5 fois, un jeton sans regarder dans le sac et on pose le jeton sur la table.

Celui qui a le plus de bidules a gagné.

Tom et Dorian ont joué et ils ont tiré 5 jetons chacun.



Qui a gagné ?